


Die Kreisel

Name(n): _____




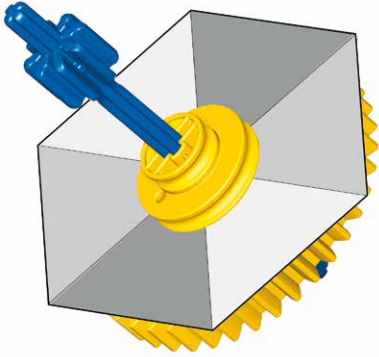
Wie dreht sich der Kreisel länger?

| | Meine Voraussage | Was ich herausgefunden habe |
|-----------------|------------------|-----------------------------|
| <p>A</p> | | |
| <p>B</p> | | |

*Kürzere
Kreiselzeit*

*Längere
Kreiselzeit*

Kannst du selbst einen Kreisel entwerfen?



Fertige eine Zeichnung deines besten Kreiselentwurfs an